

cerebro *ágil*

NIVEL MEDIO

Nombre y Apellidos: _____

Fecha de Nacimiento: _____

Dirección: _____

DNI: _____

Fecha actual: _____

Colaboran:



1º ¿Qué deporte practican cada uno de estos deportistas famosos? Une con flechas.

MESSI

RAFA NADAL

CAROLINA MARÍN

USAIN BOLT

MICHAEL JORDAN

IKER CASILLAS

ANDRÉS INIESTA

SERENA WILLIAMS

LEBRON JAMES

MARC MÁRQUEZ

MIREIA BELMONTE

TENIS

FÚTBOL

BALONCESTO

MOTOCICLISMO

BADMINTON

NATACIÓN

ATLETA

2º ¿Para qué deporte se utiliza cada cosa?




.....




.....



.....



.....



.....



.....



.....



.....



.....



.....

3º Busca en esta sopa de letras los siguientes deportes:


*BALONCESTO – GOLF – TENIS – NATACIÓN – GIMNASIA – CICLISMO – FÚTBOL
– ATLETISMO CICLISMO – RUGBY*

F	R	U	G	B	Y	R	E	I	F	N	G
Y	C	B	A	L	O	N	C	E	S	T	O
A	B	V	E	F	L	C	N	B	I	O	L
E	L	O	A	N	I	G	B	C	U	A	F
T	E	L	S	F	U	I	A	I	E	C	U
E	I	E	I	B	R	M	E	C	N	N	L
N	G	I	G	O	C	N	S	L	O	B	A
I	V	B	N	A	T	A	C	I	O	N	B
S	R	O	S	T	N	S	A	S	A	C	N
T	F	L	B	A	L	I	B	M	A	L	M
F	U	T	B	O	L	A	D	O	F	O	A
A	A	T	L	E	T	I	S	M	O	V	B

4º Nombra deportes que se jueguen con y sin balón/pelota.

Con balón/pelota	Sin balón/pelota
Fut..	Cicl...
Balón...	Yu...
Te...	Atle...
Balón..	Box..

5° Observe el siguiente dibujo:



Anota cuántas pelotas hay de cada tipo y para que deporte sirven:

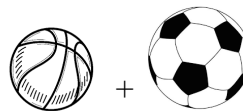


¿Cuántas pelotas hay sin contar las de este



tipo?

¿Cuántas pelotas hay sumando las de los siguientes tipos?



+


.....

6° Rodee, en el dibujo anterior, todas las pelotas que sean como esta



y

7° Copie el siguiente dibujo:



8° Observe la siguiente imagen:



- ¿Cuántas personas hay en la sala?
.....
- ¿Cuántos niños hay en la sala? ¿Y niñas?
.....
- ¿Hay algún adulto en la imagen? ¿Dónde?
.....
- ¿En qué lugar se encuentran?
.....
- ¿Qué hace la niña que lleva dos coletas?
.....
- ¿Qué hacen los niños del fondo?
.....

9º ¿Cuáles son las principales reglas del fútbol?

.....
.....
.....
.....
.....
.....

9º A continuación aparecen una serie de números:

48 – 27 – 13 – 52 – 68 – 8 – 85 – 96

- ¿Cuáles de estos números son pares?
- ¿Cuáles de estos números son impares?
- Ordena, de menor a mayor los números anteriores:
- Anota los números que sean mayores que 35:
- Anota los números que sean menores que 42:

10º Une cada deporte con su imagen.

Rugby

Voleybol

Baloncesto

Bádminton

Boxeo

Golf



11° Realice las siguientes operaciones:

$126 + 52 + 27 =$

$643 - 346 =$

$48 + 13 + 68 =$

$345 - 116 =$

$246 + 452 =$

$634 - 529 =$

$459276 =$

$734 - 468 =$

12° Agrupa en deportes con contacto físico y sin contacto físico.

Rugby, Natación, Boxeo, Atletismo, Tenis, Karate, Judo, Ciclismo.

Con contacto físico	Sin contacto físico

13° Identifica qué afirmaciones sobre deportes son verdaderas y cuales falsas.

- El tenis se juega pasando una gran pelota de un lado a otro de una red.
- En el tenis de mesa, las raquetas deben ser más grandes que las raquetas de tenis.
- En natación es obligatorio vestir gorro y gafas.
- Está prohibido poner la zancadilla en baloncesto.
- Es posible jugar dos contra dos en un partido de tenis.
- Se permite el uso de armas en un torneo de karate.
- Durante una competición de karate no se permite el uso de patadas.

- Si el balón toca el poste se considera gol, aunque no entre en la portería.

14° Completa las frases con el deporte que corresponde.

Me encanta el _____, sobre todo cuando alguien marca un triple.

El otro día estaba jugando un partido de _____ y rompí mi raqueta.

Pobrecito, el portero paró el balón con la cara, el _____ puede ser muy peligroso.

La primera vez que practiqué _____ mi oponente era cinturón negro, así que me dio una paliza.

Si haces _____ puedes entrenar hasta cuando llueve, porque dentro de la piscina ya estás mojado.

Una vez probé el _____, y casi atravieso a mi entrenador con una flecha.

El _____ es como el fútbol sala, pero el balón se lleva en las manos.

No quiero que mi hijo haga _____, tengo miedo de que le den un puñetazo, aunque sea con guantes.

El _____ es un deporte americano aburrido, solo hay que golpear la bola con el bate y correr.

Si quieres competir en _____ deberás compartir un buen bañador.

15° Escribe el nombre de cada deporte según su descripción.

Se necesitan equipos de 11 personas para jugarlo:

Los que mejor juegan este deporte son personas altas:

Se juega con raquetas y la pelota verde:

Sus participantes usan bañador:

Se juega mucho en la playa usando un balón y una red alta: