

NIVEL FACIL  
3º FICHA

Nombre y Apellidos: \_\_\_\_\_

Fecha de Nacimiento: \_\_\_\_\_

Dirección: \_\_\_\_\_

DNI: \_\_\_\_\_


1° Lee el siguiente texto y contesta las preguntas.

Las fases lunares son los cambios en la forma de la parte iluminada de la Luna cuando es vista por un observador en la Tierra. Las formas más conocidas de la luna son:

**Luna nueva** o *Luna negra*. Esta fase de la Luna normalmente es imposible verla a simple vista.




**Luna creciente**, esta fase de la luna puede ser vista durante gran parte del día y por una pequeña porción de la noche. Tiene forma de pequeña guadaña o cuerno.



**Cuarto creciente**, en esta fase de la luna, el 50 % de su cara visible es iluminada por el sol,



**Luna llena**, es cuando la concavidad de la parte luminosa de la Luna logra verse la totalidad de una de sus caras hasta formar un círculo



# cerebro *ágil*

¿Cuántas fases lunares hay y como se llama cada una de ellas?

---

---

---

---


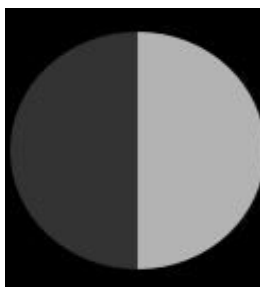
¿En qué fase lunar se puede ver el 50% de la superficie lunar?

---

¿cómo se llama la fase donde se ve la luna al completo?

---

**2. escriba debajo el nombre de las fases de la luna.**



# cerebroágil

3. Busque en la siguiente sopa de letras componentes del Sistema Solar. Te dejamos unas pistas.



Sol	Estrella
Venus	Planetas
Cometa	Marte
Neptuno	Tierra
Saturno	Plutón
Asteroides	Satélite

4. Escriba al menos 10 palabras que estén relacionadas con el universo:

---

---

---

---

5. Haz llegar el cohete a la luna

