

NIVEL ALTO

5

Nombre y Apellidos: _____

Fecha de Nacimiento: _____

Dirección: _____

DNI: _____

Fecha actual: _____

1. Lea con atención el siguiente texto.

Hoy en día, todo el mundo vincula la festividad del Día de Todos los Santos con la popular fiesta de origen pagano denominada Halloween. Pero lo cierto es que no tiene nada que ver. Halloween se celebra el 31 de octubre por la noche, mientras que el Día de Todos los Santos se celebra el 1 de noviembre.

En España tradicionalmente y desde hace una infinidad de años, se celebra el Día de Todos los Santos por comunidad autónoma de manera totalmente diferente, con un nexo común, un día en el que tristemente se recuerda a los que ya no están con nosotros.

La tradición en este día es acudir a los cementerios con ramos de flores y la celebración de misas especiales en diferentes iglesias. Se suele pasar el día en familia, después de haber hecho la visita a nuestros difuntos. En España tenemos tradiciones gastronómicas con motivo del Día de Todos los Santos, en concreto en el sur son típicas las torrijas y las gachas.

Sin embargo, Halloween es la celebración de la Noche de Brujas o la Noche de Víspera de Difuntos. Es una tradición importada que consiste en disfrazarse de muerto viviente, fantasma u otros personajes terroríficos. Los niños salen a las calles con sus disfraces y pasan por las casas pidiendo golosinas y chocolate diciendo la famosa frase de: “truco o trato”. En otros países se adornan las casas con una inspiración terrorífica y es muy típico decorar calabazas con caras de terror.

2. Sin mirar el texto, responde las siguientes preguntas.

¿Qué día se celebra la festividad del Día de Todos los Santos?

¿Qué se suele hacer en este día?

¿Qué tipo de comida se suele cocinar para la celebración de este día?

¿Qué día se celebra la festividad de Halloween?

¿Qué se suele hacer en este día?

¿En qué festividad se suelen disfrazar los niños?

¿Qué frase suelen decir los niños al pasarse por las casas en Halloween?

3. Escriba las siguientes frases al revés.

La tradición en este día es acudir a los cementerios con ramos de flores y la celebración de misas especiales en diferentes iglesias. Se suele pasar el día en familia, después de haber hecho la visita a nuestros difuntos.

4. Complete el texto con las palabras que faltan.

La tradición en este día es acudir a los _____ con ramos de flores y la celebración de misas especiales en diferentes _____. Se suele pasar el día en _____, después de haber hecho la visita a nuestros difuntos. En España tenemos tradiciones gastronómicas con motivo del Día de Todos los Santos, en concreto en el sur son típicas las _____ y las _____.

Sin embargo, Halloween es la celebración de la Noche de _____ o la Noche de Víspera de Difuntos. Es una tradición importada que consiste en disfrazarse de muerto viviente, _____ u otros personajes terroríficos. Los niños salen a las calles con sus _____ y pasan por las casas pidiendo golosinas y chocolate diciendo la famosa frase de: “truco o _____”. En otros países se adornan las casas con una inspiración terrorífica y es muy típico decorar _____ con caras de terror.


5. A cada letra le corresponde un número. Atendiendo a esto convierta las palabras anteriores en números. Después suma las cifras:

A (2)	B (10)	C (7)	D (13)	E (2)	F (11)	G (5)	H (9)	I (3)	J (20)
K (1)	L (12)	M (8)	N (15)	Ñ (20)	O (19)	P (6)	Q (18)	R (21)	S (17)
T (0)	U (4)	V (25)	W (14)	X (30)	Y (6)	Z (13)			

cerebro *ágil*




PALABRA	VALOR	SUMA
FLORES	11, 12, 19, 21, 2, 17	
SANTO		
HALLOWEEN		
CEMENTERIO		
FAMILIA		
TRUCO		
IGLESIA		
TORRIJAS		
DIFUNTOS		

6. Copia los siguientes dibujos sin sobrepasar las líneas del recuadro.



7. Resuelve el siguiente problema: Ana todos los años compra flores de distintos tipos para llevarlas al cementerio en el Día de los Santos. Compra rosas, las favoritas de su madre, amapolas, las que le gustan a su padre y claveles que son sus preferidos. En la floristería donde las compra siempre tienen el siguiente precio por unidad: rosas 1,50 euros, amapolas 2 euros y claveles 2,20 euros. ¿Qué precio tendrá un ramo que lleve 11 rosas, 15 amapolas y 12 claveles?


8. Identifica las tres flores de las imágenes que se corresponden con las mencionadas en el problema de cálculo anterior.



9. ¿Cuántas letras tienen las siguientes palabras?

FLORES		CEMENTERIO		GACHAS	
SANTOS		FAMILIA		DIOS	
VÍSPERA		FESTIVIDAD		IGLESIA	

10. ¿Qué recorrido tiene que hacer la calabaza para salir del laberinto?



11. Escribe una historia con las siguientes palabras. Una vez escrita la historia, rodea la letra I y tacha con una x la letra E.

SANTO – DESPEDIDA – CELEBRACIÓN – DISFRACES

12. Escribe 15 palabras que recuerde del primer texto.

13. Explica con tus palabras la diferencia entre la Noche de Halloween y el Día de Todos los Santos.

14. Cuéntanos alguna celebración del Día de los Santos que fuese especial para ti.

15. Completa la siguiente tabla.

A	B	A x B
-6	32	
76	5	
65	-12	
89	98	
125	5	
14	98	

cerebroágil

16. Señala con un círculo la letra “A” y con una cruz la letra “P”.

Luego cuenta cuantas hay.

A		P	
---	--	---	--

F	D	A	L	A	Y	X	P	Z	E	H	Z	A	S	E	I	A
L	F	A	P	K	L	A	M	S	H	D	P	I	L	A	W	H
X	G	G	S	P	F	S	P	E	F	A	K	F	S	A	P	L
D	P	T	I	W	L	I	H	M	A	N	E	M	P	N	K	X
Z	S	I	Y	D	A	N	P	A	S	H	P	A	D	E	F	L
X	A	J	P	K	H	S	X	D	E	S	Z	W	F	H	Y	P
F	D	A	L	A	Y	X	P	Z	E	H	Z	A	S	E	I	A
D	G	G	S	P	F	S	P	E	F	A	K	F	S	A	P	F
F	A	J	P	K	H	S	X	D	E	S	Z	W	F	H	Y	D
G	S	I	Y	D	A	N	P	A	S	H	P	A	D	E	F	L
P	G	G	S	P	F	S	P	E	F	A	K	F	S	A	P	F
S	M	F	A	P	K	L	A	M	S	H	D	P	I	L	A	L
A	N	G	G	S	P	F	S	P	E	F	A	K	F	S	P	A
D	A	J	P	K	H	S	X	D	E	S	Z	W	F	H	Y	L

17. Escribe en orden inverso los siguientes números y letras.

9ÑVW2O76B198WNDBFOEM83H
KJBCPQÑMUN183510BAUBGOWE3HG
NCV81V491NF7SD4F4SNOGI3HGH7309PSM

18. Realiza la definición de las siguientes palabras.

VÍSPERA	
TRADICIÓN	
DIFUNTO	
CEMENTERIO	
FESTIVIDAD	

19. Ordena las palabras anteriores en orden alfabético inverso.
