

# NIVEL BAJO

## FICHA 14

Nombre y Apellidos: \_\_\_\_\_

Fecha de Nacimiento: \_\_\_\_\_

Dirección: \_\_\_\_\_

DNI: \_\_\_\_\_

Fecha actual: \_\_\_\_\_

# cerebroágil

## 1. Lea con atención el siguiente texto.

El día 4 de octubre se celebra en España el Día de los Animales. Siempre se ha pensado que las emociones básicas pueden ser experimentadas tanto por seres humanos como por animales. Hoy en día hay numerosos estudios que demuestran que la capacidad de experimentar placer, dolor, miedo, alegría, ansiedad, ira, etc. no es exclusiva de los seres humanos, de hecho, son vitales para la supervivencia de numerosas especies.

Pero, ¿qué pasa con las emociones más complejas? Algunas emociones que a menudo consideramos exclusivamente humanas, no solo las experimentamos nosotros, sino que también la experimentan muchas especies sobre todo algunos mamíferos.

Destacamos 5 emociones complejas que, según estudios, se dan en animales: el sentimiento de injusticia, el deseo de venganza, el amor maternal, el sufrimiento amoroso y la capacidad de ofrecer consuelo.

## 2. Complete el texto con las palabras que faltan.

El día 4 de octubre se celebra en España el Día de los **A** \_\_\_\_\_. Siempre se ha pensado que las emociones **B** \_\_\_\_\_ pueden ser experimentadas tanto por seres humanos como por animales. Hoy en día hay numerosos estudios que demuestran que la capacidad de experimentar **P** \_\_\_\_\_, dolor, miedo, alegría, **A** \_\_\_\_\_, ira, etc. no es exclusiva de los seres humanos, de hecho, son vitales para la **S** \_\_\_\_\_ de numerosas especies.


3. Escriba una frase con cada una de las siguientes palabras.

<b>ENFADO</b>	
<b>PLACER</b>	
<b>MIEDO</b>	
<b>ALEGRÍA</b>	

4. Resuelve el siguiente problema: Ana y Juan llevan van a una tienda de animales para comprarse una mascota. Deciden comprar un hámster que vale 12 euros. Además, tienen que comprarle comida y jaula. Cada bolsa de comida vale 2 euros. La jaula más barata vale 10 euros. ¿Cuánto dinero se han gastado Ana y Juan si han comprado 1 hámster, 1 bolsa de comida y la jaula más barata?

---

5. Copia el siguiente dibujo sin sobrepasar las líneas del recuadro.



# cerebro *ágil*


6. Escriba el nombre de los siguientes animales:



CH \_ M \_ \_ \_ CÉ



L \_ R \_



R \_ \_ Ó \_

7. ¿Qué animal corresponde a las siguientes definiciones?

Tiene un cuello muy largo y es amarilla con manchas	J I R _ _ _
Tiene una larga trompa	E L E F _ _ _ _ _
Es capaz de trepar por los árboles y come plátanos	M O _ _
Vive en el mar y te puede picar con sus tentáculos	M E D _ _ _
Es muy lento y lleva su casa a cuestas	C A R _ _ _ _

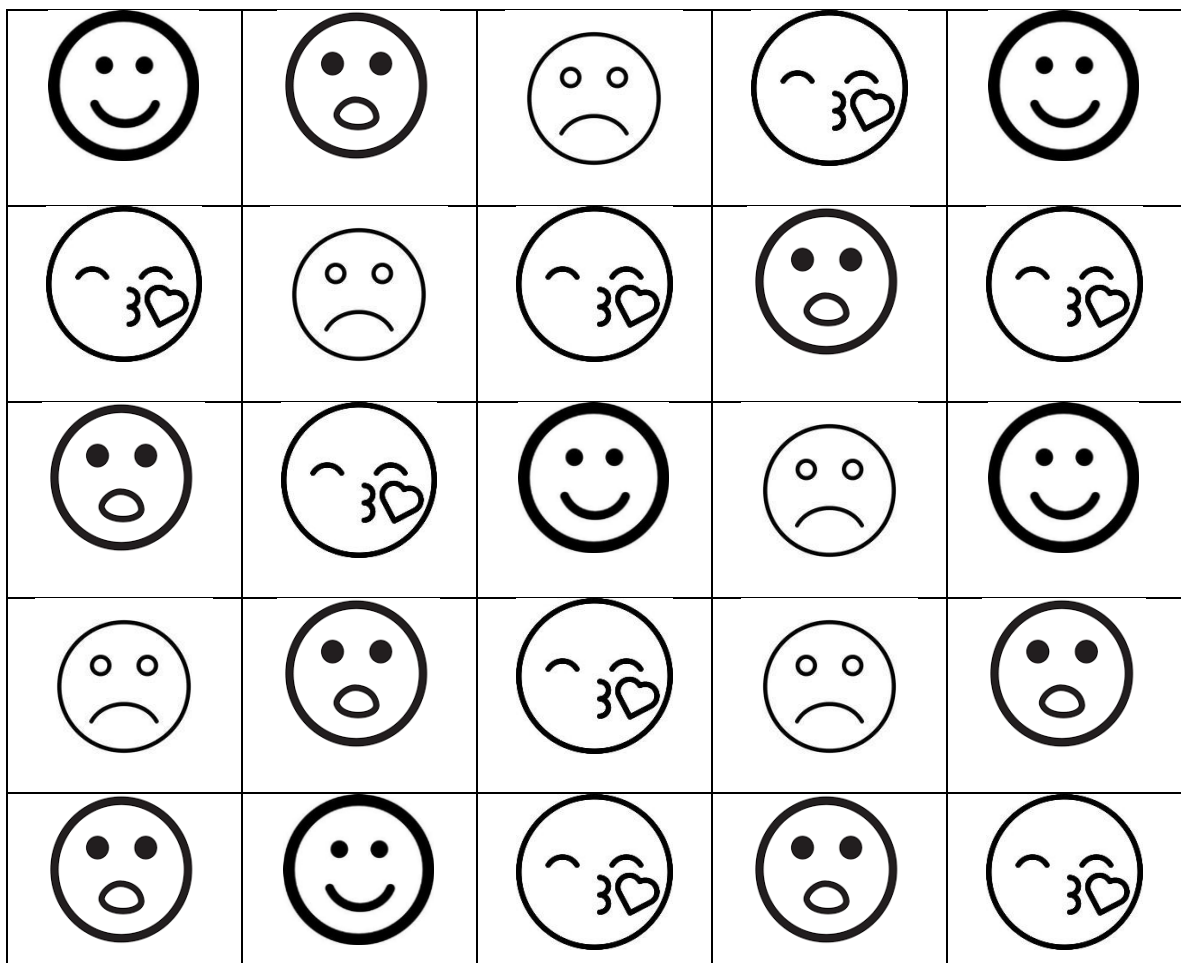
8. Realiza las siguientes operaciones.

A	B	A + B
8	8	8 + 8 = 16
6	14	6 + 14 =
7	42	7 + 42 =
5	16	5 + 16 =

9. Sigue la secuencia sumándole 2 cada vez.

2 (+2)	4 (+2)	6 (+2)	8 (+2)	10 (+2)
12 (+2)				

10. Tacha todas las caras alegres que encuentres y haz un círculo en las caras tristes.



# cerebro *ágil*

## 11. Completa las frases.

- Me siento cómoda /o cuando \_\_\_\_\_
- Me dan miedo \_\_\_\_\_
- Me siento alegre cuando \_\_\_\_\_
- Me causa enfado \_\_\_\_\_
- Me pongo nerviosa / o cuando \_\_\_\_\_
- Cuando algo es injusto me siento \_\_\_\_\_
- Me pone triste pensar en \_\_\_\_\_