

NIVEL FACIL FICHA

23 |

Nombre y Apellidos: _____

Fecha de Nacimiento: _____

Dirección: _____

DNI: _____

Fecha actual: _____

cerebroágil

1º Lea atentamente el siguiente texto:

El término proviene del mundo de la botánica. En concreto verbena era el nombre que se le daba a una planta herbácea que fue muy utilizada desde la Antigüedad gracias a las propiedades curativas que se le suponía. Con ella se preparaban un sinfín de remedios y ungüentos para curar múltiples dolencias y se utilizaba habitualmente en rituales y ofrendas a las divinidades. Su uso acabó extendiéndose en toda clase de ceremonias, la mayoría de carácter esotérico, que se celebraban de madrugada y duraban hasta el amanecer.

No sería hasta el siglo IV, la Iglesia Católica decidió controlar la mayor parte de celebraciones paganas de este tipo anulándolas o reconvirtiéndolas en fiestas religiosas, entre ellas el solsticio de verano, que acabaría siendo la Fiesta de San Juan, una de las más famosas verbenas o fiestas populares con baile.

Ya en la Edad Media los rituales nocturnos en los que se empleaba esta flor ganaron en popularidad y se aprovechaba la noche de San Juan para realizarlos junto al mar y bajo la luz de la Luna, haciéndose actos de purificación para atraer el amor y la fertilidad. Después, en el siglo XIX se extendió su uso para todos aquellos actos que tenían lugar al anochecer hasta la llegada del alba, pasando a conocerse estas fiestas como verbenas. Existía la costumbre de recolectar la planta al amanecer, porque, según mandaba la tradición, para que sus propiedades fueran efectivas, debía recogerse de una manera ceremonial, en verano, y en un momento en que no pudieran verse sol ni luna, y preferiblemente en la noche de San Juan. Por eso a quien madrugaba se le decía: ¿Vas a coger la verbena?

En la época de las fiestas de Junio (San Pedro, San Pablo y San Juan),

cerebro *ágil*

tras la recogida de la planta, se celebraba un gran festín, dando origen a las actuales verbenas veraniegas.

- Rodea todas la V que veas en el texto y tacha X las F.

-¿Qué significados tiene la palabra verbena?

-¿En qué momento del día se recolectaba la verbena?

-¿Dónde se realizaban esos rituales? ¿Para qué servían éstos?

-¿Por qué se puso este nombre a las fiestas de verano?

-¿Vas a recoger verbena últimamente?

cerebro *ágil*

2º Colorea la siguiente imagen, teniendo en cuenta las siguientes normas:

- Colorea de negro la valla
- De marrón el toro
- El chico que huye del toro es rubio y viste de rojo
- Las chicas son morenas
- La que baila acompañada lleva una flor lila, a juego con su vestido
- El acompañante es pelirrojo y viste oscuro
- El tambor es verde y la trompeta amarilla



Colaboran:

cerebro *ágil*

3º Ordena las siguientes frases del 1 al 6 según la lógica.

Pedir un vinillo

Echar un baile

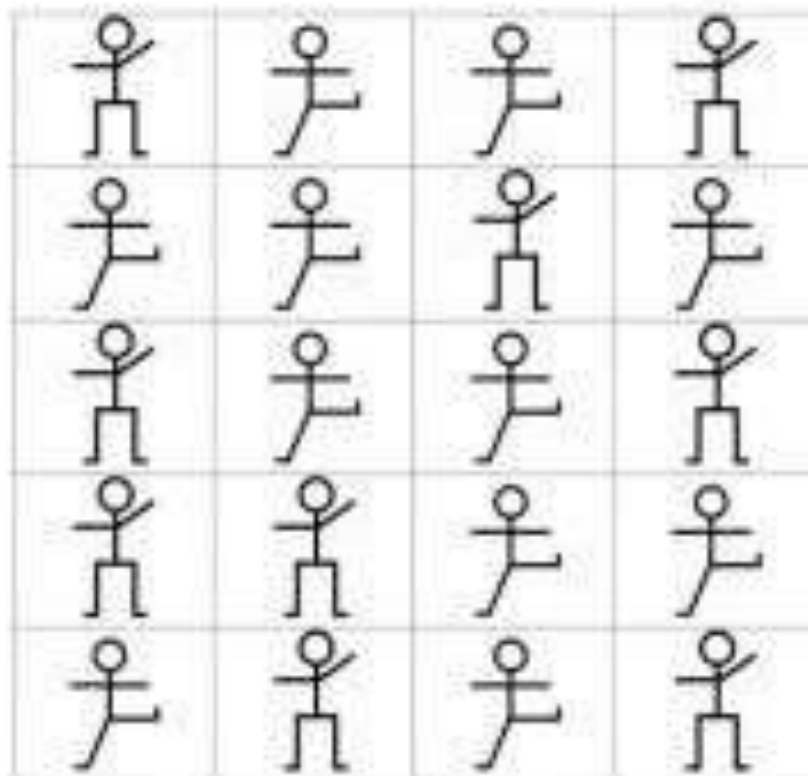
Pedir permiso a tus padres

Volver a casa

Cenar

Ponerte tu mejor gala

4º Tacha las imágenes iguales al modelo



Colaboran:



cerebro *ágil*

5° Con las siguientes palabras completa frases de canciones.

¿Recuerdas quién las interpretaba?



-Mi _____ me lo robaron anoche cuando dormía

-Desde que llegaste ya no vivo _____ eh! vivo cantando,, vivo soñando eh!

-Bésame, bésame mucho, como si fuera esta noche la _____ vez.

-Dos gardenias para ti, con ellas quiero _____ te quiero, te adoro.

- _____ a bailar, cuando acaban de nacer tu colita has de mover chin chin chin chin.

-María de la O, que _____ gitana tu eres, teniéndolo to.

-Escucha hermano la canción de la _____, el canto alegre del que espera un nuevo día.

-Juntos, _____ para dos, amor en buena compañía. Si tú eres así qué suerte que ahora estés junto a mí.

- _____ en el baúl de los recuerdo uuuuh cualquier tiempo pasado nos parece mejor.

cerebro *ágil*

¿¿¿LAS HAS LEIDO CANTANDO???

-Escribe el nombre de los intérpretes o alguna anécdota vivida con esas canciones.

6º Realiza las siguientes operaciones.

$3+2=$

$3+1+4=$

$6+4=$

$2+6+0=$

$10+5=$

$13+6=$

$20+17=$

$8-4=$

$20-10=$

$17-4+2=$

$5-3+11=$

$20+10-9=$

$15+5+4=$

$17+3-1=$

$12+6-10=$

$9+9-4=$

$24-12+3=$

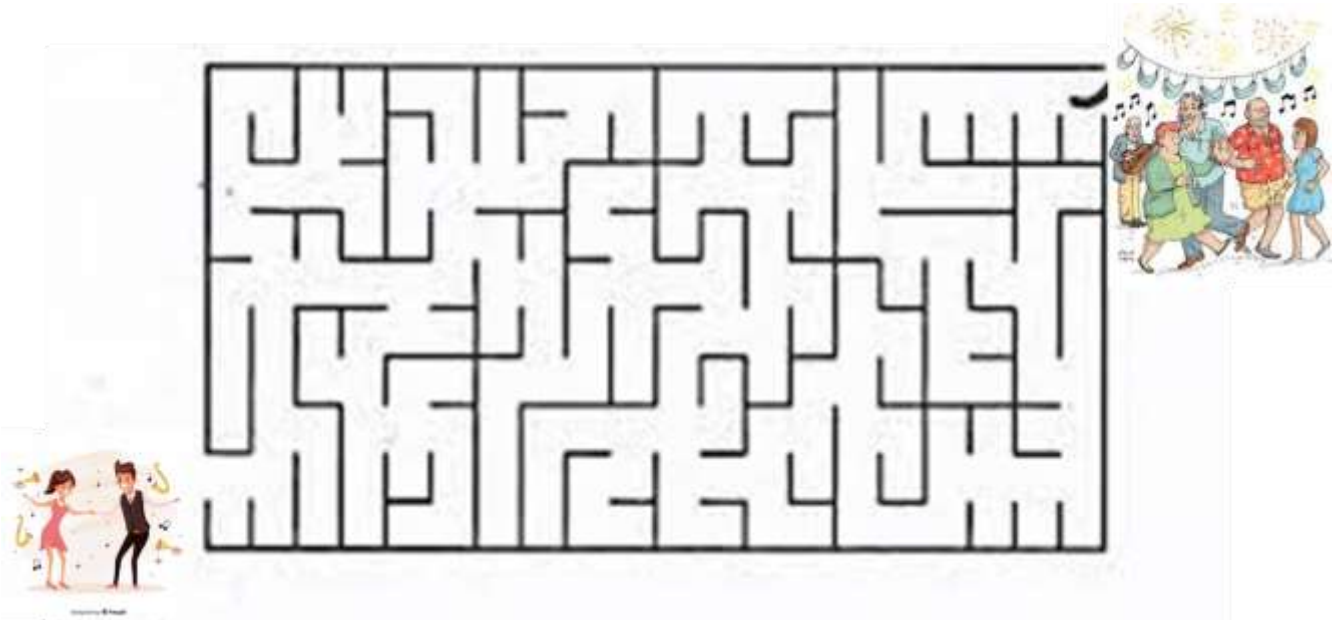
$13-4-4=$

$16-3+2=$

$19-6+3+2+1=$

cerebro *ágil*

7º Consigue que los mozos lleguen a la pista de baile.

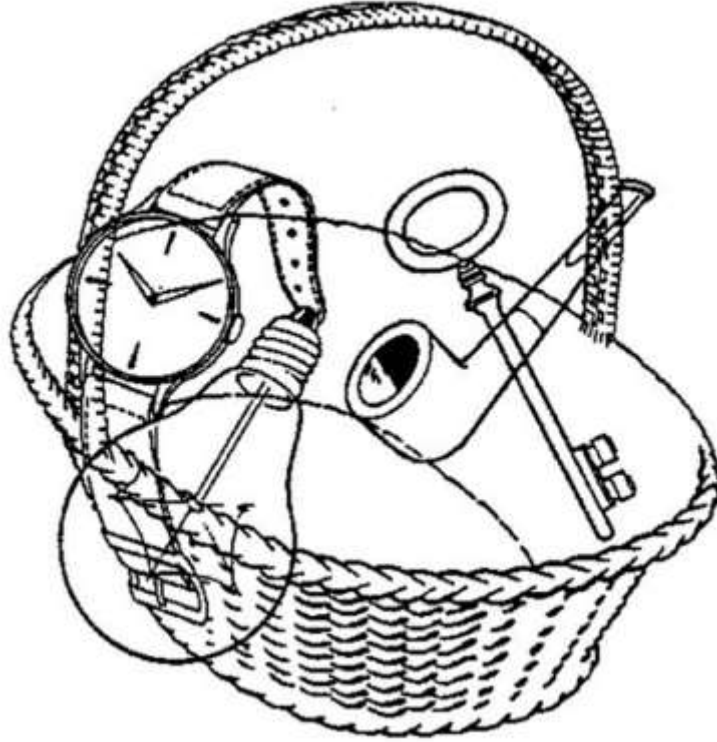


Colaboran:



cerebro *ágil*

8° Identifica las siguientes figuras, y escribe el nombre de las 5 y escribe o di su utilidad.



Colaboran:



cerebro *ágil*

9º Une las descripciones a las imágenes

Vaso con pie que sirve para beber líquidos, en especial bebidas alcohólicas



Baile popular español de ritmo rápido y vivo.



Prenda de vestir que cubre el tronco, con cuello, que se abrocha por delante con botones



Lugar en el que se produce una experiencia social constituida por relaciones entre las personas, movimiento y música



Pañuelo de forma triangular que se utiliza para abrigarse


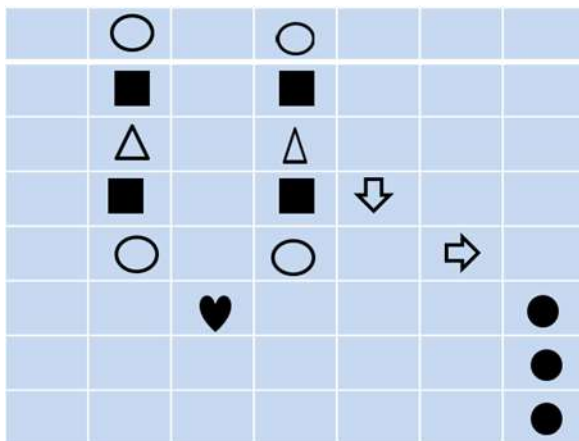
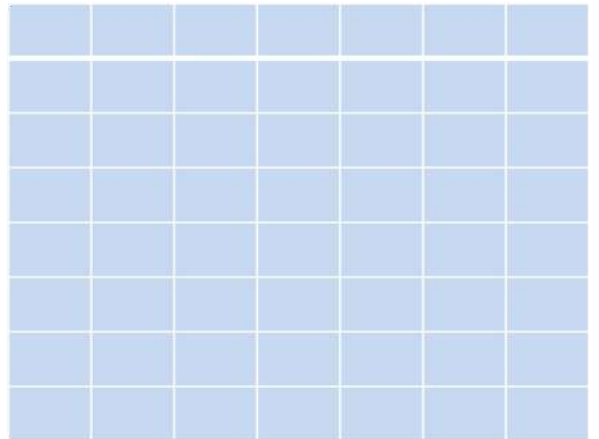
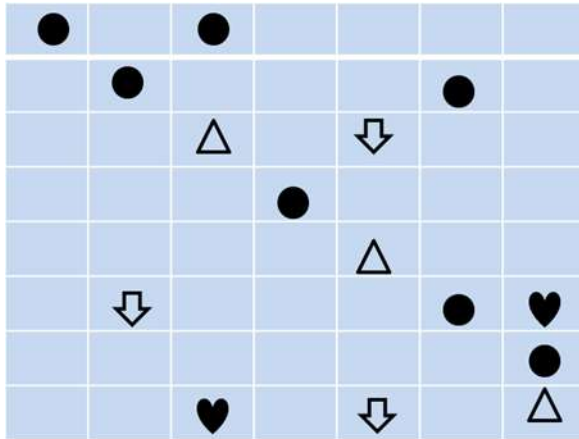


Conjunto de instrumentalistas que interpretan obras musicales



cerebro *ágil*

10º Copia los dibujos en las cuadrículas de al lado.



Colaboran:



cerebro *ágil*

11° Escribe debajo de cada flecha el número que corresponda



12° Imagina que quieres preparar tu receta favorita, completa los cuadros con los ingredientes y cantidades aproximadas, lugar en el que compraras cada uno y procedimiento.

INGREDIENTES

TIENDAS

cerebro *ágil*

PROCEDIMIENTO

- 1.
- 2.
- 3.
- 4.
- 5.
- 6.
- 7.

Colaboran:

