

NIVEL ALTO FICHA

Nombre y Apellidos: _____

Fecha de Nacimiento: _____

Dirección: _____

DNI: _____

Fecha actual: _____

1. Lee el siguiente texto sobre el origen de la expresión “Estar en Babia”.

Todos hemos escuchado o incluso usado alguna vez la expresión “estar en Babia”. Se utiliza de forma coloquial cuando nos damos cuenta de que alguien parece no estar prestando atención y tener la cabeza en otra cosa. Aunque hay varias teorías sobre el origen de esta expresión, una de las más extendidas tiene que ver con la comarca leonesa de Babia.

Babia es una comarca de la provincia de León que limita al norte con Asturias, al este con la comarca de Luna, al sur con la de Omaña y al oeste con la de Lacia. Es popular por sus verdes praderas, que siempre han determinado su principal riqueza: la ganadería. Región con una fuerte tradición pastoril y caracterizada por la trashumancia.

Históricamente, Babia era un lugar de retiro y descanso para los reyes leoneses durante la Edad Media. Cuando los monarcas se ausentaban de sus responsabilidades y estaban en Babia, solían estar relajados y alejados de las preocupaciones de la corte y los asuntos de gobierno. De ahí surgió la idea de que cuando alguien estaba «en Babia», estaba distraído o abstraído, ajeno a lo que sucedía a su alrededor.

También hay teorías que apuntan a que esta expresión procede de los pastores que alquilaban los pastos de Babia para que sus ovejas pudieran pacer en temporadas más secas. Así, después de que los pastores trashumantes extremeños pasaran largas temporadas en Babia y volvieran a su tierra natal, se mostraban más despistados de lo habitual, por lo que comenzó a utilizarse la expresión 'estás en Babia' para llamarles la atención.

¿Conocías esta expresión y su origen?

Texto extraído de https://www.eldebate.com/cultura/20240722/donde-viene-expresion-estar-babia-significa-exactamente-cns_214901.html

2. ¿Qué significa la expresión “estar en Babia”?

3. ¿En qué provincia española se encuentra Babia?

4. ¿Con qué comarcas limita Babia?

- Al norte: _____ - Al sur: _____
- Al este: _____ - Al oeste: _____




5. ¿En qué época usaban los reyes leoneses Babia como lugar de retiro?

6. ¿Por qué es tan popular esta región?

7. ¿Cuál es la otra teoría sobre el origen de esta expresión?

cerebro *ágil*

8. Memoriza estas asociaciones, luego tápalas y escribe todas las que recuerdes en la columna de la derecha.



ASOCIACIONES

Colaboran:

cerebro *ágil*

9. Descifra el siguiente código secreto teniendo en cuenta que cada número corresponde a una letra.

<u>J a</u>	<u>e t a a</u>	<u>e</u>	<u>l a e</u>	<u>el</u>	<u>p e</u>	<u>e t a a</u>
11-21-1-12	15-17-3-1-5-1	15-12	10-8-1-17-15	15-8	7-23-20-22-15-17-20-23	15-17-3-1-5-1

<u>e p l i a</u>	<u>al</u>	<u>e</u>	<u>el</u>	<u>e a e</u>	<u>pe</u>	<u>el</u>	<u>e</u>
15-14-7-8-2-10-1-12-19-20	1-8-6-20	17-20-5-23-15	15-8	15-14-1-16-15-12	7-15-23-20	15-8	12-20

<u>e t a a</u>	<u>e t e a</u>	<u>e</u>	<u>a a</u>	<u>p e</u>	<u>e t a a</u>	<u>e</u>	<u>a i a</u>
15-17-3-1-5-1	15-12-3-15-23-1-12-19-20	19-15	12-1-19-1	7-20-23-13-21-15	15-17-3-1-5-1	15-12	5-1-5-2-1

a	b	c	d	e	f	g	h	i	j	l	m	n	o	p	q	r	s	t	u	x
1				15				2	11	8				7				3		

10. Escribe una historia con las siguientes palabras.

Prado - Ovejas - Babia - Pastor - Lobo

11. Resuelve la siguiente sopa de letras.

E	U	M	L	D	E	S	C	A	N	S	O	L	R
J	W	G	W	D	K	A	Z	L	E	O	N	U	C
A	P	R	A	D	O	Y	B	A	B	I	A	H	P
X	V	A	C	A	W	O	B	T	S	X	Z	S	A
Q	U	R	F	H	I	E	V	F	B	X	G	M	S
Y	Z	F	E	I	G	R	F	E	X	D	G	U	T
P	V	B	Z	B	C	E	A	O	J	B	A	S	O
D	A	M	O	N	A	R	C	A	H	A	N	F	R
Q	H	Z	O	I	V	Ñ	I	Y	S	X	A	L	Q
G	W	P	G	R	Y	L	O	X	Y	K	D	M	M
T	F	N	W	L	G	Y	E	V	B	A	E	T	S
L	T	Q	S	R	E	T	I	R	O	Z	R	I	H
U	M	W	Q	P	D	I	S	T	R	A	I	D	O
X	G	G	Q	V	R	X	B	G	R	V	A	H	A

Las palabras pueden estar ocultas horizontalmente, verticalmente o diagonalmente.

Babia	Descanso
Distraido	Ganaderia
Leon	Monarca
Oveja	Pastor
Prado	Rebaño
Retiro	Vaca

12. Escribe todas las ciudades que se te ocurran por las siguientes letras.

A	C	M	T	B

13. Resuelve las siguientes operaciones.

- $6 \times 9 + 3 =$ _____

- $85 \times 9 =$ _____

- $18 \times 36 =$ _____

- $23 + 9 - 11 =$ _____

- $11 + 9 - 7 =$ _____

- $56 / 8 =$ _____

- $128 / 4 =$ _____

- $97 - 48 =$ _____

- $77 - 39 =$ _____

- $163 \times 54 =$ _____

- $83 \times 51 =$ _____

- $65 / 13 =$ _____

- $99 - 72 + 8 =$ _____

- $133 - 47 + 26 =$ _____

14. Partiendo del ejercicio anterior, haz lo siguiente:

- Rodea con un círculo los 1 que haya → ○
- Dibuja un cuadrado en los 7 → □
- Dibuja un rombo en los 3 → ◊
- Dibuja un rectángulo en los 8 → ▭

15. Cuantos números hay en total:

- 1: _____
- 3: _____
- 7: _____
- 8: _____

16. Ordena de mayor a menor los siguientes números.

689	723	889	521	997	321	287	327	126	920	752	410
150	473	614	860	905	730	512	271	652	183	846	254

cerebro *ágil*

17. Define con tus propias palabras.

Pastor:

Prado:

Rebaño:

Ganadería:

Distraído:
